

10 ワークシート

なまえ

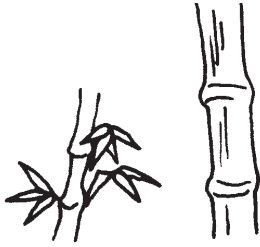


次の楽器は竹か金属がっき きんぞくを使って作られています。
 それぞれどちらの材料ざいりょうを使っているかな？
 楽器をえらんでわくのなかに番号ばんごうをかこう。

さがす場所 ばしょ 1階 かい 日本、にほん アジア てんじつ 展示室

たけ
竹


あたたかく雨の多い地域ちいきに生えます。



こたえ


きんぞく
金属

てつ、どう、せいどう、しんちゆう
鉄、銅、青銅、真鍮など。

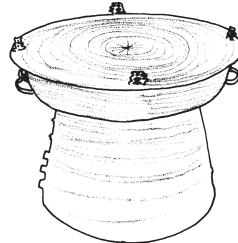


こたえ

① ガムラン




② どうこ
銅鼓



③ よつだけ
四竹



④ ジュゴック



⑤ はんしょう
半鐘



⑥ しゃくはち
尺八

